



とけいのはりをみて なんじなんぶんか それぞれこたえましょう。




こたえ



こたえ



こたえ




こたえ


■■■■家庭学習でご利用の場合のみ無償でご利用頂けます。それ以外是有償となりますのでご注意ください。■■■■




こたえ



こたえ




こたえ




こたえ


とけいのはりをみて なんじなんぷんか それぞれこたえましょう。




こたえ  
2じ



こたえ  
9じ30ぷん




こたえ  
4じ30ぷん




こたえ  
8じ


■■■■家庭学習でご利用の場合のみ無償でご利用頂けます。それ以外是有償となりますのでご注意ください。■■■■




こたえ  
5じ30ぷん



こたえ  
3じ30ぷん



こたえ  
1じ



こたえ  
10じ