



とけいのはりをみて なんじなんぶんか それぞれこたえましょう。




こたえ



こたえ




こたえ




こたえ


■■■■家庭学習でご利用の場合のみ無償でご利用頂けます。それ以外是有償となりますのでご注意ください。■■■■




こたえ



こたえ




こたえ




こたえ


とけいのはりをみて なんじなんぷんか それぞれこたえましょう。




こたえ
1じ



こたえ
8じ30ぷん




こたえ
7じ




こたえ
2じ30ぷん


■■■■家庭学習でご利用の場合のみ無償でご利用頂けます。それ以外是有償となりますのでご注意ください。■■■■




こたえ
3じ30ぷん



こたえ
5じ



こたえ
10じ



こたえ
9じ30ぷん