




とけいのはりをみて なんじなんぶんか それぞれこたえましょう。




こたえ



こたえ



こたえ

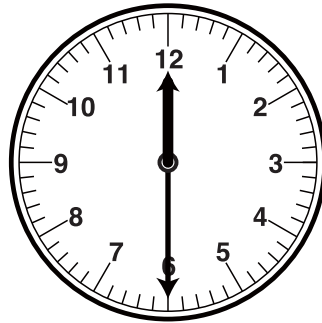


こたえ


■■■■家庭学習でご利用の場合のみ無償でご利用頂けます。それ以外是有償となりますのでご注意ください。■■■■




こたえ



こたえ




こたえ




こたえ


とけいのはりをみて なんじなんぷんか それぞれこたえましょう。




こたえ  
5じ



こたえ  
7じ30ぷん




こたえ  
4じ




こたえ  
9じ30ぷん


■■■■家庭学習でご利用の場合のみ無償でご利用頂けます。それ以外是有償となりますのでご注意ください。■■■■




こたえ  
5じ30ぷん



こたえ  
6じ



こたえ  
8じ



こたえ  
2じ30ぷん