



とけいのはりをみて なんじなんぶんか それぞれこたえましょう。




こたえ



こたえ




こたえ




こたえ


■■■■家庭学習でご利用の場合のみ無償でご利用頂けます。それ以外是有償となりますのでご注意ください。■■■■




こたえ



こたえ




こたえ




こたえ


とけいのはりをみて なんじなんぷんか それぞれこたえましょう。




こたえ
1じ



こたえ
10じ30ぶん




こたえ
8じ




こたえ
4じ


■■■■家庭学習でご利用の場合のみ無償でご利用頂けます。それ以外是有償となりますのでご注意ください。■■■■




こたえ
9じ30ぶん



こたえ
5じ30ぶん



こたえ
2じ



こたえ
11じ30ぶん