




とけいのはりをみて なんじなんぶんか それぞれこたえましょう。



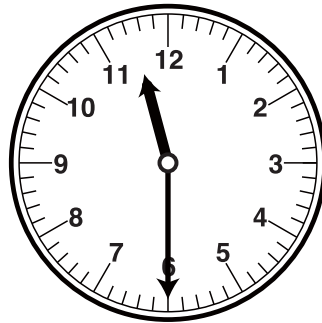
こたえ



こたえ




こたえ




こたえ


■■■■家庭学習でご利用の場合のみ無償でご利用頂けます。それ以外是有償となりますのでご注意ください。■■■■




こたえ



こたえ




こたえ




こたえ


とけいのはりをみて なんじなんぶんか それぞれこたえましょう。




こたえ  
5じ45ぶん



こたえ  
12じ45ぶん




こたえ  
2じ45ぶん




こたえ  
11じ30ぶん


■■■■■家庭学習でご利用の場合のみ無償でご利用頂けます。それ以外是有償となりますのでご注意ください。■■■■■




こたえ  
1じ30ぶん



こたえ  
2じ15ぶん



こたえ  
11じ15ぶん



こたえ  
3じ30ぶん