




とけいのはりをみて なんじなんぶんか それぞれこたえましょう。




こたえ



こたえ




こたえ




こたえ


■■■■家庭学習でご利用の場合のみ無償でご利用頂けます。それ以外是有償となりますのでご注意ください。■■■■




こたえ



こたえ




こたえ




こたえ


とけいのはりをもて なんじなんぶんか それぞれこたえましょう。




こたえ  
2じ30ぶん



こたえ  
1じ45ぶん




こたえ  
4じ45ぶん




こたえ  
4じ15ぶん


■■■■家庭学習でご利用の場合のみ無償でご利用頂けます。それ以外には有償となりますのでご注意ください。■■■■




こたえ  
12じ45ぶん



こたえ  
1じ15ぶん



こたえ  
3じ45ぶん



こたえ  
6じ30ぶん