



とけいのはりをみて なんじなんぶんか それぞれこたえましょう。




こたえ



こたえ




こたえ




こたえ


■■■■家庭学習でご利用の場合のみ無償でご利用頂けます。それ以外是有償となりますのでご注意ください。■■■■



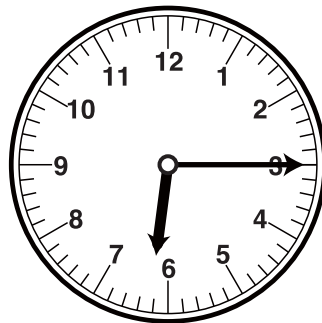
こたえ



こたえ



こたえ




こたえ


とけいのはりをみて なんじなんぶんか それぞれこたえましょう。




こたえ
5じ30ぶん



こたえ
6じ45ぶん




こたえ
4じ15ぶん




こたえ
10じ45ぶん


■■■■家庭学習でご利用の場合のみ無償でご利用頂けます。それ以外是有償となりますのでご注意ください。■■■■




こたえ
1じ15ぶん



こたえ
11じ45ぶん



こたえ
8じ45ぶん



こたえ
6じ15ぶん