




とけいのはりをみて なんじなんぶんか それぞれこたえましょう。



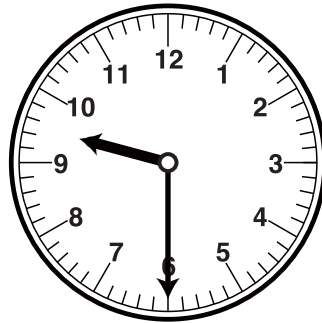
こたえ



こたえ




こたえ




こたえ


■■■■家庭学習でご利用の場合のみ無償でご利用頂けます。それ以外是有償となりますのでご注意ください。■■■■




こたえ



こたえ




こたえ




こたえ


とけいのはりをみて なんじなんぶんか それぞれこたえましょう。




こたえ
10じ45ぶん



こたえ
3じ15ぶん




こたえ
12じ45ぶん




こたえ
9じ30ぶん


■■■■家庭学習でご利用の場合のみ無償でご利用頂けます。それ以外是有償となりますのでご注意ください。■■■■




こたえ
8じ30ぶん



こたえ
2じ15ぶん



こたえ
5じ45ぶん



こたえ
5じ15ぶん