



10 えんだまと 1 えんだまを それぞれあわせると いくらになるでしょう？



こたえ




こたえ



こたえ


■■■■■家庭学習でご利用の場合のみ無償でご利用頂けます。それ以外是有償となりますのでご注意ください。■■■■■



こたえ




こたえ



こたえ


10 えんだまと 1 えんだまを それぞれあわせると いくらになるでしょう？



こたえ 57 えん



こたえ 84 えん



こたえ 76 えん


■■■■家庭学習でご利用の場合のみ無償でご利用頂けます。それ以外是有償となりますのでご注意ください。■■■■



こたえ 69 えん



こたえ 95 えん



こたえ 47 えん