



10 えんだまと 1 えんだまを それぞれあわせると いくらになるでしょう？



こたえ




こたえ




こたえ

■■■■家庭学習でご利用の場合のみ無償でご利用頂けます。それ以外是有償となりますのでご注意ください。■■■■



こたえ




こたえ



こたえ


10 えんだまと 1 えんだまを それぞれあわせると いくらになるでしょう？



こたえ 68 えん




こたえ 92 えん




こたえ 86 えん

■■■■家庭学習でご利用の場合のみ無償でご利用頂けます。それ以外是有償となりますのでご注意ください。■■■■



こたえ 98 えん



こたえ 49 えん



こたえ 84 えん