



10 えんだまと 1 えんだまを それぞれあわせると いくらになるでしょう？



こたえ



こたえ




こたえ


■■■■■家庭学習でご利用の場合のみ無償でご利用頂けます。それ以外是有償となりますのでご注意ください。■■■■■



こたえ




こたえ



こたえ

10 えんだまと 1 えんだまを それぞれあわせると いくらになるでしょう？



こたえ 68 えん



こたえ 83 えん




こたえ 48 えん


■■■■家庭学習でご利用の場合のみ無償でご利用頂けます。それ以外是有償となりますのでご注意ください。■■■■



こたえ 95 えん



こたえ 78 えん



こたえ 86 えん